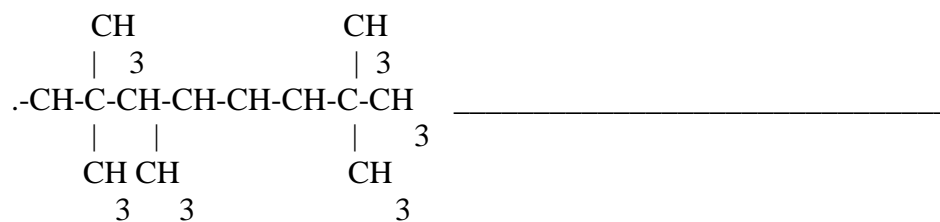



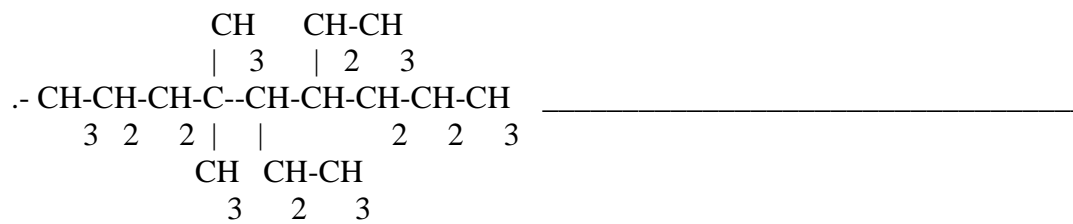


ACTIVIDAD N° 1

FECHA DE ENTREGA: \_\_\_\_\_

1.- Escriba el nombre de los siguientes compuestos orgánicos.





PARTE 2

Escriba la formula de los siguientes compuestos orgánicos

.- 3,6-dimetil-6-etil-4isopropil-octano

.- 3,9 –diethyl-5,7-dimetil-6-propil-dodecano

.-2,4,5-trimetil-octano

.-6-etil-3.4.4.6-tetrametil- nonano

ACTIVIDAD N° 2

FECHA DE ENTREGA:

PARTIE 1.- Escriba el nombre de los siguientes compuestos orgánicos.

